

## సాక్షి పదవతరగతి మాదిరి ప్రశ్నాపత్రము - (2019-20)

### మాదిరి ప్రశ్నాపత్రము - 1

(చరిత్ర - పౌరశాస్త్రము)

సాంఘికశాస్త్రము (NEW MODEL) పేపరు - 2

సమయము: 2.45ని:

మార్కులు:50

సూచనలు:

1. ప్రశ్నపత్రం చదువుకోవడానికి 15నిమిషాలు. జవాబులు వ్రాయడానికి 2.30 గంటలు కేటాయించబడింది.
2. అన్ని ప్రశ్నలకు సమాధానాలు వేరే జవాబు పత్రంలో వ్రాయాలి
3. ప్రశ్నపత్రంలో నాలుగు బాగాలుంటాయి
4. సెక్షన్ -4 లో ఏదోఒక ప్రశ్నకు (Internal choice) జవాబు వ్రాయాలి.
5. జవాబులు స్పష్టంగానూ అర్థమయ్యేవిధంగా ఉండాలి

సెక్షన్ -1

గమనిక:

- i. అన్ని ప్రశ్నలకు సమాధానాలు వ్రాయాలి
- ii. ప్రతి ప్రశ్నకు సమానమార్కులు వుంటాయి.

12X1/2=06

1. 20 వ శతాబ్దాన్ని తీవ్ర సంచలనాల యుగం అన్నవారు -----
  - ఫ్లారెన్స్ బవెన్స్
  - కుస్తోదివ్
  - స్థాలిన్
  - ఎరిక్స్ హాబ్స్ బామ్

2. రెండవ ప్రపంచయుద్ధానికి సంబంధించి క్రిందివాటిలో సత్యముకానిది.

- ఐరూపాదేశాలపై యుద్ధం తీవ్ర ప్రభావం చూపడం
- USA లోని పరిశ్రమలు తీవ్రంగా దెబ్బతినడం
- వలసవాదులు వారి వలస ప్రాంతాల పాలనకు న్యాయం చేయలేక పోవడం
- USSR వలసవాద దేశాలన్నిటిలోకి గొప్ప దేశంగా ఎదగడం.

3. క్రిందివాటిలో వేరుగా వున్న దానిని గుర్తించుము.

- బ్రిటన్ - చర్చిల్
- అమెరికా - రూజ్ వెల్ట్
- ఇటలీ - హిట్లర్
- రష్యా - లెనిన్

4. సన్ -ఎట్ - సెన్ గారి రాజకీయ సిద్ధాంతాలు వీటి పై ఆధార పడ్డాయి.

- కమ్యూనిస్ట్ పార్టీ ఆఫ్ చైనా
- ప్రాంతీయ పార్టీ
- కొమ్మంగ్ టన్
- చైనా లిబరేషన్ పార్టీ

5. ఒక భారతదేశ జాతీయనాయకుడు బ్రిటీషు వారిని తరిమికొట్టుటకుగాను జపాన్ మరియు జర్మనీ దేశాలకు రహస్యంగా వెళ్ళి భారత సైనికులను కూడగట్టాడు. అతను ఎవరు.

6. భారతదేశానికి క్యాబినెట్ మిషన్ ను పంపిన సంవత్సరము

- 1950
- 1932
- 1946
- 1947

7. Dr. BR అంబేడ్కర్ గారు ఈ రాష్ట్రానికి చెందినవారు.

- తమిళనాడు
- మహారాష్ట్ర
- ఉత్తరప్రదేశ్

8. క్రింది గ్రాఫ్ ను పరిశీలించి దిగువ ప్రశ్నకు జవాబు వ్రాయుము.

*Coalition governments and some political parties from 1990s*

Governing Parties National Front 1990-1990	Governing Parties United Front 1996-1998	Governing Parties National Democratic Alliance 1998-2004
JD; DMK; AGP; TDP; Jammu & Kashmir National Conference (JKNC)	JKNC; TDP; TMC; CPI; AGP; DMK; MGP; Samajwadi Party	BJP; SAD; AIADMK; JKNC; Trinamool Congress; Biju Janata Dal; Shiva Sena;
Supporting Parties CPM; CPI; BJP	Supporting Parties CPM	Supporting Parties TDP

This is not a complete list of political parties that either supported for were part of the government. Often we have listed only those parties that had more 5 or MPs

ప్రశ్న:

i. యునైటెడ్ ఫ్రంట్ కు చెందిన జాతీయ పార్టీ పేరేమిటి?

9. పంచశీల ఒప్పందంపై సంతకంచేసిన రెండు దేశాలు ఏవి?

- చైనా - రష్యా
- ఇండియా - శ్రీలంక
- ఇండియా - చైనా
- చైనా - అమెరికా

10. మొదటి సంకీర్ణ ప్రభుత్వానికి నాయకత్వం వహించినవారు.

- ఇందిరాగాంధీ
- వాజ్ పేయి
- వి.పి. సింగ్
- మొరార్జీ దేశాయ్

11. మార్టిన్ లూథర్ కింగ్ ను ప్రభావితం చేసిన భారతీయుడు.

- వివేకానంద
- టాగోర్
- నెహ్రూ
- గాంధీ

12. క్రిందివాటిలో స్వయం ప్రతిపత్తిలేని సంస్థ.

- న్యాయసేవా సంస్థ
- ఎన్నికల కమిషన్
- CPI C & SPI C
- NCPOR (జాతీయ బాలల హక్కుల పరిరక్షణ కమీషనర్)

## సెక్షన్ -2

గమనిక:

- i. అన్ని ప్రశ్నలకు సమాధానాలు వ్రాయాలి
- ii. ప్రతిప్రశ్నకు మార్కులు సమానం.

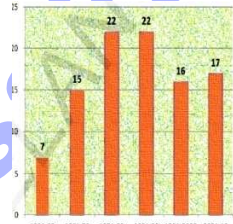
8X1 = 8

13. రెండవ ప్రపంచ యుద్ధానికి గల తక్షణ కారణమేమి?
14. హిరోషిమాపై ఎప్పుడు అణుబాంబు ప్రయోగించారు?
15. దిగువ బొమ్మలో చూపిన వ్యక్తి దేనితో సంబంధం కలదు.



- జాతిపిత
- భారతదేశ రాజ్యాంగ పిత
- రెండవ భారత ప్రధాని

16. ఆధునిక చైనా నిర్మాత ఎవరు?
17. కాంగ్రెస్ ను బలహీన పరచడానికి బ్రిటీష్ వారు అనుసరించిన విధానం ఏమిటి?
18. క్రింది గ్రాఫ్ ను పరిశీలించి దిగువ ప్రశ్నకు జవాబువ్రాయుము.



Graph 1 : Since the Constitution was Came into force on 26th January 1950 till 2013 nearly 99 amendments were made.

ప్రశ్న: ఏ దశాబ్దంలో 17 రాజ్యాంగ సవరణలు జరిగాయి?

19. భారతదేశంలో అమలు అవుతున్న పార్టీ సిద్ధాంతం ఏది?
20. వియత్నాం ప్రజలు అమెరికన్ లను ఓడించడానికి అనుసరించిన విధానం ఏమిటి?

సెక్షన్ -3

గమనిక:

iii. అన్ని ప్రశ్నలకు సమాధానాలు వ్రాయలి

iv. ప్రతిప్రశ్నకు మార్కులు సమానం.

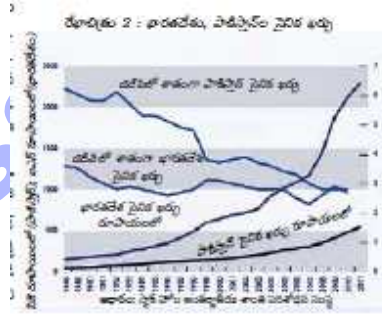
8X2 = 16

21. తేబాగా వుధ్యమం అనగానేమి? దానికి నాయకత్వం వహించినది ఎవరు?
22. భారతదేశము మరియు జపాన్ ల మధ్యకల రెండు రాజ్యాంగ పోలికలు ఏవి?
23. క్రీంది మ్యాపును చదివి దిగువ ప్రశ్నలకు జవాబులు వ్రాయుము.

గురింది వివిధిరవ తరగతిలో చదివివది గ



- i. విభజించు పాలించు అనే సూత్రాన్ని బ్రిటీష్ వారు నైజీరియాలో ఎలా అమలు చేశారు?
24. అస్సాం ఉధ్యమానికి గల ముఖ్య కారణాలు ఏమిటి?
25. క్రీంది గ్రాఫ్ ను పరిశీలించి దిగువ ప్రశ్నలకు జవాబులు వ్రాయుము.



ప్రశ్నలు:

- i. పై గ్రాఫ్ లోని సమాచారాన్ని ఏ సంస్థ ప్రచురిస్తుంది?
- ii. 2000 సంవత్సరానికిగాను GDP లో మిలిటరీ ఖర్చులను ఏ దేశం అధికంగా ఖర్చు చేసింది?

26. సంస్థానాల విలీనానికి సర్దార్ వల్లభాయ్ పటేల్ అనుసరించిన విధానం ఏమిటి?

27. రష్యా విప్లవంలో భాగంగా ఆదేశంలో వచ్చిన ఏవేని నాలుగు మార్పులను పేర్కొనుము.

28. కాంగ్రెస్ తిరస్కరించిన ముస్లింలీగ్ యొక్క ప్రతిపాదనలేమిటి? కాంగ్రెస్ తిరస్కరించినవాటితో నీవు ఏకీభవిస్తావా?

**సెక్షన్ -4**

గమనిక:

- i. అన్ని ప్రశ్నలకు సమాధానాలు వ్రాయలి
- ii. (అంతర్గత ఎంపిక కలదు) ఏదేని ఒక ప్రశ్నకు మాత్రమే జవాబు వ్రాయుము.
- iii. ప్రతిప్రశ్నకు మార్కులు 4 5X4 = 20

29. రష్యా విప్లవంవలన ప్రపంచంలో వచ్చిన మార్పు ఏమిటి?

లేదా

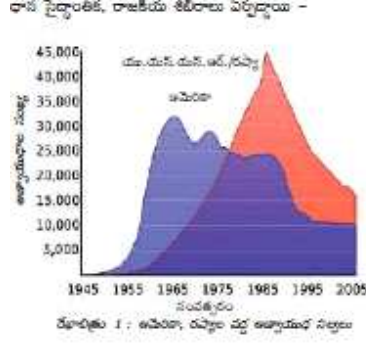
“ఐక్యరాజ్య సమితిలో కేవలం కొన్ని పార్టీలకే వీటో పవర్ ఉండడం ప్రపంచశాంతికి విఘాతం” చర్చించండి.

30. ఎన్నికలకు సంబంధించిన క్రింది పట్టికలోని అంశాలను పరిశీలించి వ్యాఖ్యానించుము.

వోటర్లు	పురుషులు	స్త్రీలు	ఇతరులు	Total
ఓటర్ల సంఖ్య	43.7 కోట్లు	39.7 కోట్లు	28.5 వేలు	83.4 crores
ఓట్లు వేసిన వారి సంఖ్య	29.2 కోట్లు	26.01 కోట్లు	1968 వేలు	55.3 crores
పోలింగ్ శాతం	67.00%	65.54%	7%	66.30%

లేదా

క్రింది గ్రాఫ్ ను పరిశీలించి దిగువ ప్రశ్నలకు జవాబులు వ్రాయుము.



ప్రశ్నలు:

- 1995-1975 మధ్య అత్యధిక అణుబాంబులు కల్గిన దేశం ఏది?
- 1965లో అమెరికా వద్దకల యుద్ధ ట్యాంకుల సంఖ్య ఎంత?
- రెండవ ప్రపంచ యుద్ధానంతరం దేశాల మధ్య శిబిరాలు ఏర్పడడానికి గల కారణాలేవి?
- 1990 తరువాత ప్రపంచ దేశాలు ఎందుకు అణ్వాయుధాలను తగ్గించుకొన్నాయి?

31. ప్రజాస్వామ్యంలో ప్రాంతీయ పార్టీల ప్రాముఖ్యతను వివరించండి.

లేదా

లోక అదాలత్ యొక్క ఆవశ్యకత ఏమిటి?

32. " ఈరోజుల్లో మానవ జీవితంలో టెలికాం విప్లవం అనేక మార్పులను తెచ్చింది". వ్యాఖ్యానించుము.

లేదా

క్రింది పేరాను చదివి దిగువ ప్రశ్నలకు జవాబులిమ్ము

ఐక్యరాజ్యసమితి శాశ్వత శాంతి, మానవ అభివృద్ధి అన్నరెండు ఉద్దేశాలతో ఏర్పడింది. అదేసమయంలో అది దేశాల స్వయంప్రతిపత్తిని గుర్తించి ప్రపంచశాంతికి ముప్పు లేదా తీవ్ర మానవహక్కుల ఉల్లంఘన వంటి సందర్భాలలో తప్పించి దేశాల అంతర్గత వ్యవహారాల్లో జోక్యం చేసుకోవడానికి మాట ఇచ్చింది.

33. క్రింది ప్రాంతాలను ప్రపంచ పటంలో చూపించండి

- నేపాల్
- USA
- హిందూమహాసముద్రం
- ఈజిప్టు.

లేదా

క్రిందివాటిని ప్రపంచ పటంలో గుర్తించండి.

- A “నాజీ” లచే పాలించబడిన దేశం
- B ముస్సోలిని జన్మ ప్రదేశం
- C రెండవ ప్రపంచయుద్ధంలో అణ్వాయుధాలు ప్రయోగించిన దేశం
- D ఆఫ్రికా ఖండానికి ఉత్తర దిక్కున కలది.

www.sakshieducation.com